



ДРОБЬ ПО МОДЕЛИ И МОДЕЛЬ ПО ДРОБИ

5 класс

Доли

Пирог разрезали на 8 долей.

За обедом съели 3 доли. Осталось на блюде 5 долей пирога.


Эти 5 долей обозначают дробью:

$$\frac{5}{8} \text{ пирога}$$




Математический диктант по рисункам

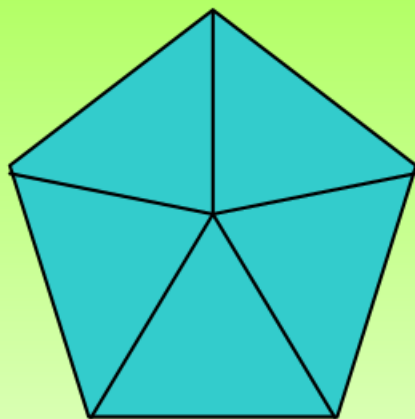
Записать покрашенную часть дробью



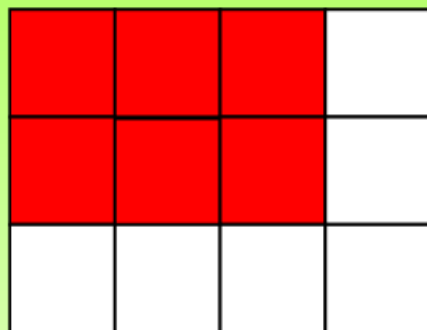
1



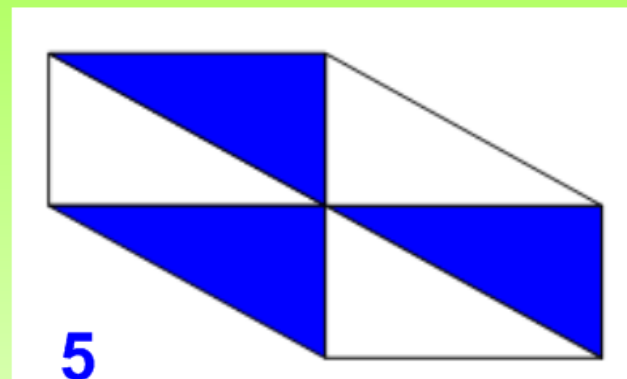
2



3



4



5

$$\frac{5}{7}$$

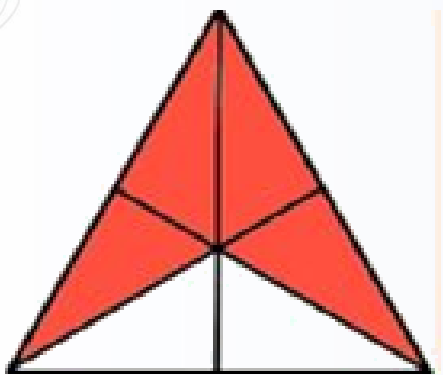
$$\frac{1}{2}$$

$$\frac{5}{5}$$

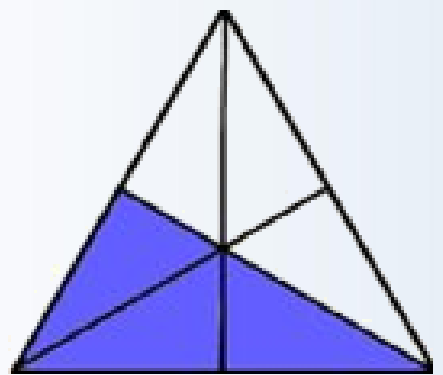
$$\frac{6}{12}$$

$$\frac{3}{6}$$

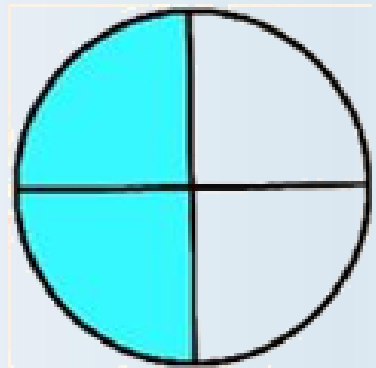
Найди ошибку: Какая часть фигуры закрашена?



~~$\frac{2}{6}$~~ $\frac{4}{6}$




~~$\frac{6}{3}$~~ $\frac{3}{6}$



$\frac{2}{4}$ ~~$\frac{3}{4}$~~




~~$\frac{4}{5}$~~ $\frac{1}{5}$



$\frac{2}{4}$ ~~$\frac{4}{2}$~~



~~$\frac{3}{5}$~~ $\frac{5}{10}$



Начертите 4 одинаковых
прямоугольника, разделите каждый
прямоугольник на 8 равных частей.
Изобразите на этих прямоугольниках
дроби:

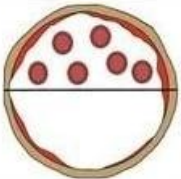
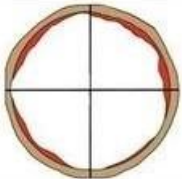


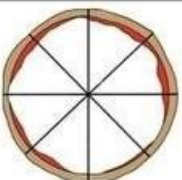





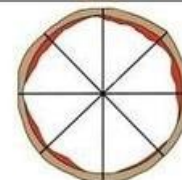
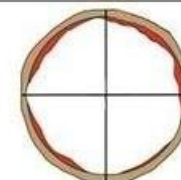

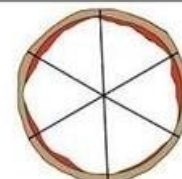
$$\frac{3}{8}$$

$$\frac{1}{8}$$

$$\frac{4}{8}$$

$$\frac{7}{8}$$

Д/з: раскрась ту часть пиццы, которая обозначена дробью

1. $\frac{1}{2}$ 	2. $\frac{3}{4}$ 	3. $\frac{2}{6}$ 
4. $\frac{1}{3}$ 	5. $\frac{6}{8}$ 	6. $\frac{2}{4}$ 
7. $\frac{5}{6}$ 	8. $\frac{2}{8}$ 	9. $\frac{4}{6}$ 
10. $\frac{3}{6}$ 	11. $\frac{3}{8}$ 	12. $\frac{1}{4}$ 
13. $\frac{2}{3}$ 	14. $\frac{1}{6}$ 	15. $\frac{7}{8}$ 